

1. Definición

La hipérbola es el lugar geométrico de todos los puntos del plano cuyo valor absoluto de la diferencia de las distancias a dos puntos fijos es constante. Más claramente:

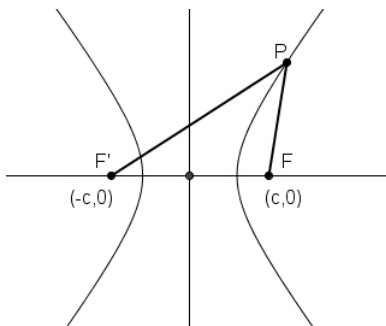
Dados (elementos bases de la hipérbola)

- Dos puntos F y F' del plano, denominados focos de la hipérbola.
- Un número positivo, α , menor que $d(F, F')$.

se llama hipérbola al lugar geométrico de los puntos del plano cuyo valor absoluto de la diferencia de las distancias del punto P a los puntos dados F y F' es constante e igual a α , es decir,

$$|d(P, F) - d(P, F')| = \alpha \tag{1}$$

2. Deducción de la ecuación de la hipérbola



Para obtener la ecuación más simple de la hipérbola:

- se toma el eje X pasando por los puntos F' y F y el origen en el punto medio del segmento $F'F$.
- se asignan las coordenadas: $F'(-c, 0)$ y $F(c, 0)$.
- se define $\alpha = 2a$, de donde $a < c$ (¿por qué?).

Luego, la condición (1), queda

$$|\sqrt{(x+c)^2 + y^2} - \sqrt{(x-c)^2 + y^2}| = 2a \tag{2}$$

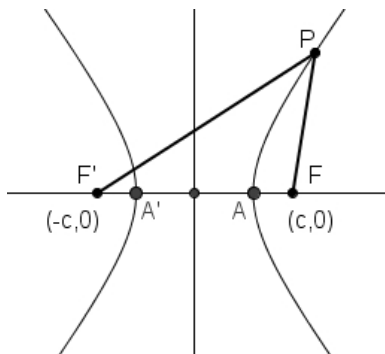
elevando al cuadrado y trabajando de manera similar al caso de la elipse, se obtiene

$$(c^2 - a^2)x^2 - a^2y^2 = a^2(c^2 - a^2) \tag{3}$$

definiendo $c^2 - a^2 = b^2$, sustituyendo y finalmente dividiendo por a^2b^2 , se obtiene la llamada *ecuación canónica y reducida de la hipérbola*:

$$\frac{x^2}{a^2} - \frac{y^2}{b^2} = 1 \tag{4}$$

3. Elementos asociados a una hipérbola



- **Focos:** son los puntos dados (y fijos) $F(c, 0)$ y $F'(-c, 0)$.
- **Eje focal:** Es la recta que pasa por los focos (en este caso, el eje X).
- **Centro:** Es el punto de intersección de los ejes (en este caso, el origen).
- **Radios vectores:** Son los segmentos PF' y PF . del segmento $F'F$.
- **Vértices:** Son los puntos de intersección de la hipérbola con su eje focal: A y A' .
- **Eje mayor:** es el segmento AA' de longitud $2a$.

Nota: Si el eje focal de la hipérbola coincide con el eje Y , de manera que los coordenadas de los focos sean $(0, c)$ y $(0, -c)$, la ecuación de la hipérbola es

$$\frac{y^2}{a^2} - \frac{x^2}{b^2} = 1 \tag{5}$$

4. Relaciones entre los parámetros de la hipérbola

- Para cada hipérbola, sus parámetros a , b y c están ligados por la relación $c^2 - a^2 = b^2$.
- $e = \frac{c}{a} = \frac{\sqrt{a^2 + b^2}}{a}$, se llama *excentricidad* de la hipérbola. Notar que $e > 1$.

5. Ejemplo

Los vértices de una hipérbola son los puntos $A(0, 3)$ y $A'(0, -3)$ y sus focos son los puntos $F(0, 5)$ y $F'(0, -5)$. Encontrar la ecuación de la hipérbola, la longitud de su eje mayor y su excentricidad. Graficar.

6. Asíntotas de la hipérbola

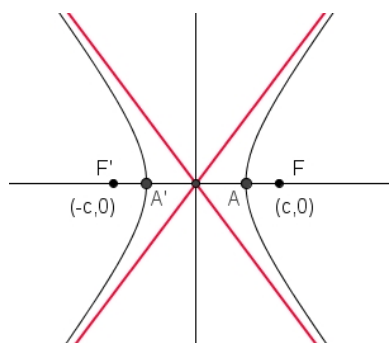
1. De (4), se obtiene que

$$y = \pm \frac{b}{a} x \sqrt{1 - \frac{a^2}{x^2}} \tag{6}$$

2. Por una cuidadosa inspección de (4), se deduce que, a medida que x crece (o decrece) sin límite, la ecuación precedente se va transformando en las ecuaciones de las rectas

$$y = \pm \frac{b}{a} x \tag{7}$$

Por lo tanto, a medida que x crece (o decrece) sin límite los puntos de la hipérbola (4) se van acercando, cada vez más, a las rectas (7). Luego, estas dos rectas son asíntotas de la hipérbola (4).



Asíntotas de la hipérbola

7. Hipérbola con centro (h, k) y ejes paralelos a los ejes coordenados

- La ecuación de la hipérbola de centro en el punto (h, k) y eje focal paralelo al eje X , esta dada por

$$\frac{(x - h)^2}{a^2} - \frac{(y - k)^2}{b^2} = 1 \tag{8}$$

siendo

$$\frac{x - h}{a} = \pm \frac{y - k}{b} \tag{9}$$

las ecuaciones de sus asíntotas.

- Si el eje focal es paralelo al eje Y , la ecuación de la hipérbola es

$$\frac{(y - k)^2}{a^2} - \frac{(x - h)^2}{b^2} = 1 \tag{10}$$

siendo

$$\frac{y - k}{a} = \pm \frac{x - h}{b} \tag{11}$$

las ecuaciones de sus asíntotas.

- Para cada hipérbola, a es la longitud del semieje mayor, c es la distancia del centro a cada foco, y a , b y c están ligadas por la relación $c^2 = a^2 + b^2$.
- Desarrollando las ecuaciones (7) y (10) se obtiene que la *ecuación general de la hipérbola* (con ejes paralelos a los ejes coordenados) es

$$Ax^2 + By^2 + Dx + Ey + F = 0 \tag{12}$$

con A y B sean de *distinto signo*. ¿Bajo que condiciones (12) representa una hipérbola?.

8. Ejemplo

Verificar que la ecuación $9x^2 - 4y^2 - 54x + 8y + 113 = 0$ es una hipérbola. Determinar su centro, eje focal, vértices, focos, excentricidad y ecuaciones de sus asíntotas. Hacer un esbozo de su gráfico.

9. Hipérbola y rectas tangentes

- Sea (x_0, y_0) es un punto en la hipérbola (4). La ecuación de la recta tangente a la hipérbola en este punto es

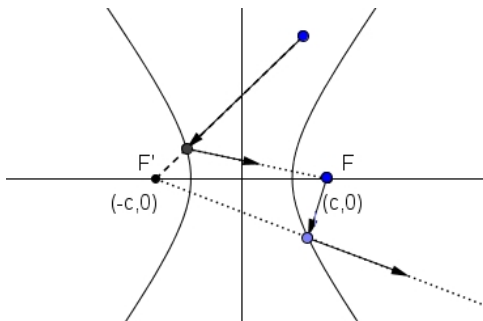
$$\frac{x_0x}{a^2} - \frac{y_0y}{b^2} = 1 \tag{13}$$

2. Las rectas tangentes a la hipérbola (4) de pendientes m son:

$$y = mx \pm \sqrt{a^2m^2 - b^2}, \text{ con } |m| > \frac{b}{a} \tag{14}$$

10. Aplicaciones

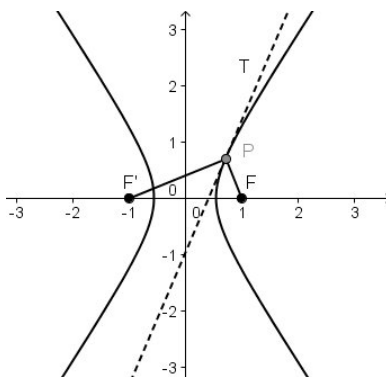
1. **Propiedad óptica.** En un espejo hiperbólico, un rayo de luz dirigido hacia uno de los focos es reflejado hacia el otro foco, y un rayo de luz que sale de un foco es reflejado, alejándose de otro foco y en la dirección del otro foco.



Esta propiedad de la hipérbola proviene del siguiente:

10.1. Teorema

La tangente a una hipérbola en cualquier punto de la curva es bisectriz del ángulo formado por los radios vectores de ese punto.



2. **Astronomía.** Trayectorias de cometas.

Un cuerpo celeste que provenga del exterior del sistema solar, sea atraído por el sol y luego se aleje (sin volver), en algunos casos, describirá una órbita hiperbólica, teniendo como un foco al sol y saldrá nuevamente del sistema solar. Esto sucede con algunos cometas.

11. Actividades

1. Hallar los vértices, focos y excentricidad de las siguientes hipérbolas. Graficar.

a) $9x^2 - 4y^2 = 36$ b) $4x^2 - 9y^2 = 36$ c) $9y^2 - 4x^2 = 36$

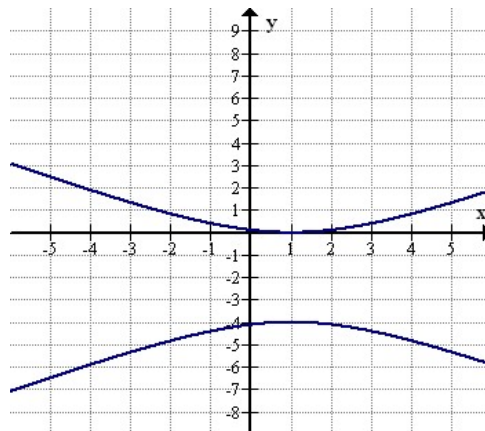
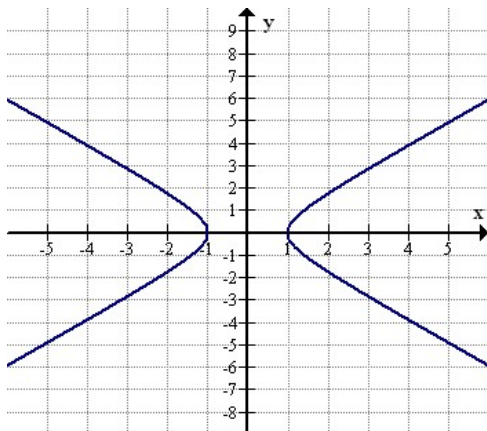
Sol. a) $(\pm 2, 0), (\pm\sqrt{13}, 0), \frac{\sqrt{13}}{2}$. b) $(\pm 3, 0), (\pm\sqrt{13}, 0), \frac{\sqrt{13}}{3}$. c) $(0, \pm 2), (0, \pm\sqrt{13}), \frac{\sqrt{13}}{2}$.

2. Se llama *lado recto* de la hipérbola al segmento que pasa por un foco y une dos puntos de dicha hipérbola. Verificar que la longitud el lado recto de la hipérbola (4) viene dada por $\frac{2b^2}{a}$. Encontrar las longitudes de los lados rectos de las hipérbolas de la actividad precedente. *Sol.* $9, \frac{8}{3}, 9$.
3. Los vértices de una hipérbola son los puntos $(\pm 2, 0)$ y sus focos son los puntos $(\pm 3, 0)$. Hallar su ecuación y su excentricidad. *Sol.* $\frac{x^2}{4} - \frac{y^2}{5} = 1, 1.5$.
4. Los vértices de una hipérbola son $(0, \pm 4)$ y su excentricidad es igual a $\frac{3}{2}$. Hallar la ecuación de la hipérbola y las coordenadas de sus focos. *Sol.* $\frac{y^2}{16} - \frac{x^2}{20} = 1, (0, \pm 6)$.
5. ¿Qué tienen en común la familia de hipérbolas $3x^2 - 3y^2 = k$?
6. Hallar e identificar la ecuación del lugar geométrico de un punto que se mueve de tal manera que su distancia del punto $(6, 0)$ es siempre igual al doble de su distancia de la recta $2x - 3 = 0$. *Sol.* $3x^2 - y^2 = 27$.
7. Hallar los puntos de intersección de la recta $2x - 9y + 12 = 0$ con las asíntotas de la hipérbola $4x^2 - 9y^2 = 11$. *Sol.* $2x \pm \sqrt{5} = 0$
8. Se llama *hipérbola equilátera* una hipérbola de la forma

$$x^2 - y^2 = a^2 \quad (15)$$

- a) Comprobar que la excentricidad de una hipérbola equilátera es igual a $\sqrt{2}$.
- b) Demostrar que el producto de las distancias de cualquier punto de una hipérbola equilátera a sus asíntotas es una constante.
9. Los vértices de una hipérbola son los puntos $(-1, 3)$ y $(3, 3)$, y su excentricidad es 5. Hallar la ecuación de la hipérbola, las coordenadas de sus focos, y las longitudes de cada lado recto. *Sol.* $\frac{(x-1)^2}{4} - \frac{(y-3)^2}{5} = 1, (4, 3), (-2, 3), 5$.
10. Para cada una de las siguientes ecuaciones, para las correspondientes a hipérbolas: escribirlas en las forma (7) o (10), determinar las coordenadas del centro, vértices y focos; su excentricidad y las ecuaciones de sus asíntotas.
- a) $x^2 - 9y^2 - 4x + 36y - 41 = 0$ b) $4x^2 - 9y^2 + 32x + 36y + 64 = 0$ c) $x^2 - 4y^2 - 2x + 1 = 0$
- Sol.* a) $\frac{(x-2)^2}{9} - \frac{(y-2)^2}{1} = 1$. Centro $(2, 2)$. Vértices $(5, 2)$ y $(-1, 2)$. Focos $(2 \pm \sqrt{10}, 2)$. Excentricidad $\frac{\sqrt{10}}{3}$. Asíntotas $x + 3y - 8 = 0, x - 3y + 4 = 0$. c) No es una hipérbola. Son dos rectas concurrentes: $x \pm 2y - 1 = 0$.
11. Hallar el ángulo agudo de intersección de las asíntotas de la hipérbola $9x^2 - y^2 - 36x - 2y + 44 = 0$. *Sol.* $36^\circ 52'$.
12. Hallar las ecuaciones de las tangentes a la hipérbola $x^2 - 2y^2 + 4x - 8y - 6 = 0$ que son paralelas a la recta $4x - 4y + 11 = 0$. *Sol.* $x - y \pm 1 = 0$.
13. Dibujar las siguientes hipérbolas y hallar sus puntos de intersección: $x^2 - 2y^2 + x + 8y - 8 = 0$ y $3x^2 - 4y^2 + 3x + 16y - 18 = 0$. *Sol.* $(1, 1), (1, 3), (-2, 1), (-2, 3)$.
14. Verificar gráficamente que la curva $xy = 1$ corresponde a una hipérbola.
15. Comprobar que la elipse $9x^2 + 16y^2 = 144$ y la hipérbola $3x^2 - 4y^2 = 12$ tienen los mismos focos y que se cortan en ángulo recto.
16. Calcular los ángulos bajo los cuales se cortan la hipérbola equilátera $x^2 - y^2 = 1$ y la circunferencia $x^2 + y^2 = 9$. *Sol.* $\approx 83, 62^\circ$.
17. Hallar los puntos de intersección de la circunferencia $x^2 + y^2 - 9 = 0$ y la hipérbola $9x^2 - 4y^2 - 36 = 0$. *Sol.* $(2, 35, 1, 86), (-2, 35, 1, 86), (2, 35, -1, 86), (-2, 35, -1, 86)$ (valores redondeados a dos decimales).

18. Determinar las ecuaciones de las siguientes hipérbolas:



Sol. $x^2 - y^2 = 1$, $4x^2 - 8x - 9y^2 - 36y + 4 = 0$

19. A partir de la definición de la hipérbola obtener su gráfico en el software Geogebra.

UTalca - Versión Preliminar